






Suivre l'itinéraire :

- 1-Prendre le passage qui vous permettra de rejoindre la rue Villette Gâté.
- 2-Restez sur le trottoir et remonter la rue sur votre gauche.
- 3-traverser la rue pour entrer dans une cour (site ouvert au public jusqu'à 16h30)- faites une visite libre de ce lieu.
- 4-Quittez ce site en partant par la gauche. Entrez dans l'église par une petite porte.
- 5-Dans le bâtiment, partez sur votre gauche pour observez ce qui se trouve au bout de l'allée.
- 6-Sortir du bâtiment par la porte centrale, traversez la rue.
- 7- longer le trottoir pour revenir sur la place St Pol

Rallye des copains 2015 La grande Vadrouille 2 Nogent le Rotrou	<u>Barème sur 100 points:</u>	Temps limité à 5minutes	Points	Equipage n°
--	-------------------------------	-------------------------------	--------	-------------

La visite du centre ville Qu'en avez-vous retenu ?

	Questions	Réponse A	Réponse B	Réponse C
1	Qu'y a-t-il de particulier concernant le clocher de l'église ?	Le clocher se trouve à l'intérieur	L'église n'a pas de clocher	Il y en a deux
2	Qui est représenté en statue dans le carrefour ?	Paul Deschanel	Camille Gâté	Villette Gâté
3	Quel fut une des fonctions de cet homme ?	Poète	Président de la république	Sculpteur
4	Par qui le tombeau de Sully a été sculpté en 1642 ?	Barthélémy Bourin	Barthélémy Boulin	Barthélémy Boudin
5	Comment s'appelait la femme du duc de Sully ?	Rachel de Cocheilet	Rachelle de Rochefilet	Rachelle de Crocheilet
6	La commune de Nogent le Rotrou a rendu hommage à Sully en 1784.	Ecrire 1784 en chiffres Romains :		
7	De quelle année date le tombeau de Sully ?	1614	1641	1642
8	Dans l'église, combien de personnes composent le groupe de la nativité ?	12	13	15
9	Dans l'église, un saint est présent sur un vitrail. De qui s'agit-il ?	Saint Michel	Saint Bernard	Saint Christophe
10	La ville de Nogent le Rotrou possède un label touristique. Lequel ?			

Rallye des copains 2015
La grande vadrouille 2
Contrôle 11

Contrôleurs :
Etienne et Jean-Louis

Jeu du ballon :

Exploser le ballon de baudruche le plus rapidement possible en le gonflant.

Equipe n°	Temps réalisé	Classement	Points selon barème
1			
2			
3			
4			
5			
6			
7			
8			
9			
10			
11			
12			
13			
14			
15			

Barème :

Classement	Points	Classement	Points	Classement	Points
1 ^{er}	50	6 ^{ème}	25	11 ^{ème}	12
2 ^{ème}	45	7 ^{ème}	20	12 ^{ème}	10
3 ^{ème}	40	8 ^{ème}	18	13 ^{ème}	8
4 ^{ème}	35	9 ^{ème}	16	14 ^{ème}	6
5 ^{ème}	30	10 ^{ème}	14	15 ^{ème}	5

Récapitulatif du contrôle :

Equipe n°	Points sur parcours	Points sur le jeu du ballon	Total des points
1			
2			
3			
4			
5			
6			
7			
8			
9			
10			
11			
12			
13			
14			
15			

